

**ПРОЕКТ**

**Государственная итоговая аттестация по образовательным программам основного общего образования в форме основного государственного экзамена (ОГЭ)**

**Демонстрационный вариант контрольных измерительных материалов для проведения в 2019 году основного государственного экзамена по ФИЗИКЕ**

подготовлен Федеральным государственным бюджетным научным учреждением  
«ФЕДЕРАЛЬНЫЙ ИНСТИТУТ ПЕДАГОГИЧЕСКИХ ИЗМЕРЕНИЙ»

**Демонстрационный вариант контрольных измерительных материалов для проведения в 2019 году основного государственного экзамена по ФИЗИКЕ**

**Пояснение к демонстрационному варианту**

При ознакомлении с демонстрационным вариантом 2019 г. следует иметь в виду, что задания, включённые в демонстрационный вариант, не отражают всех элементов содержания, которые будут проверяться с помощью вариантов КИМ в 2019 г. Полный перечень элементов содержания, которые могут контролироваться на экзамене 2019 г., приведён в кодификаторе элементов содержания и требований к уровню подготовки обучающихся для проведения основного государственного экзамена по физике, размещённом на сайте: [www.fipi.ru](http://www.fipi.ru).

Демонстрационный вариант предназначен для того, чтобы дать возможность любому участнику экзамена и широкой общественности составить представление о структуре экзаменационной работы, количестве и форме заданий, а также об их уровне сложности. Приведённые критерии оценивания выполнения заданий с развёрнутым ответом, включённые в демонстрационный вариант экзаменационной работы, позволят составить представление о требованиях к полноте и правильности записи развёрнутого ответа.

Эти сведения дают выпускникам возможность выработать стратегию подготовки к сдаче экзамена по физике.

## Демонстрационный вариант

### Инструкция по выполнению работы

Экзаменационная работа состоит из двух частей, включающих в себя 26 заданий. Часть 1 содержит 21 задание с кратким ответом и одно задание с развёрнутым ответом, часть 2 содержит 4 задания с развёрнутым ответом.

На выполнение экзаменационной работы по физике отводится 3 часа (180 минут).

Ответы к заданиям 2–5, 8, 11–14, 17, 18, 20 и 21 записываются в виде одной цифры, которая соответствует номеру правильного ответа. Эту цифру запишите в поле ответа в тексте работы, а затем перенесите в бланк ответов № 1.

Ответы к заданиям 1, 6, 9, 15, 19 записываются в виде последовательности цифр в поле ответа в тексте работы. Ответы к заданиям 7, 10 и 16 записываются в виде числа с учётом указанных в ответе единиц. Ответ запишите в поле ответа в тексте работы, а затем перенесите в бланк ответов № 1. Единицы измерения в ответе указывать не надо.

К заданиям 22–26 следует дать развёрнутый ответ. Задания выполняются на бланке ответов № 2. Задание 23 экспериментальное, и для его выполнения необходимо воспользоваться лабораторным оборудованием.

Все бланки ЕГЭ заполняются яркими чёрными чернилами. Допускается использование гелевой или капиллярной ручки.

При вычислениях разрешается использовать непрограммируемый калькулятор.

При выполнении заданий можно пользоваться черновиком. **Записи в черновике, а также в тексте контрольных измерительных материалов не учитываются при оценивании работы.**

Баллы, полученные Вами за выполненные задания, суммируются. Постарайтесь выполнить как можно больше заданий и набрать наибольшее количество баллов.

После завершения работы проверьте, что ответ на каждое задание в бланках ответов № 1 и № 2 записан под правильным номером.

***Желаем успеха!***

Ниже приведены справочные данные, которые могут понадобиться Вам при выполнении работы.

Десятичные приставки		
Наименование	Обозначение	Множитель
гига	Г	$10^9$
мега	М	$10^6$
кило	к	$10^3$
гекто	г	$10^2$
санти	с	$10^{-2}$
милли	м	$10^{-3}$
микро	мк	$10^{-6}$
нано	н	$10^{-9}$

Константы	
ускорение свободного падения на Земле	$g = 10 \frac{\text{м}}{\text{с}^2}$
гравитационная постоянная	$G = 6,7 \cdot 10^{-11} \frac{\text{Н} \cdot \text{м}^2}{\text{кг}^2}$
скорость света в вакууме	$c = 3 \cdot 10^8 \frac{\text{м}}{\text{с}}$
элементарный электрический заряд	$e = 1,6 \cdot 10^{-19} \text{ Кл}$

Плотность			
бензин	$710 \frac{\text{кг}}{\text{м}^3}$	древесина (сосна)	$400 \frac{\text{кг}}{\text{м}^3}$
спирт	$800 \frac{\text{кг}}{\text{м}^3}$	парафин	$900 \frac{\text{кг}}{\text{м}^3}$
керосин	$800 \frac{\text{кг}}{\text{м}^3}$	лёд	$900 \frac{\text{кг}}{\text{м}^3}$
масло машинное	$900 \frac{\text{кг}}{\text{м}^3}$	алюминий	$2700 \frac{\text{кг}}{\text{м}^3}$
вода	$1000 \frac{\text{кг}}{\text{м}^3}$	мрамор	$2700 \frac{\text{кг}}{\text{м}^3}$
молоко цельное	$1030 \frac{\text{кг}}{\text{м}^3}$	цинк	$7100 \frac{\text{кг}}{\text{м}^3}$
вода морская	$1030 \frac{\text{кг}}{\text{м}^3}$	сталь, железо	$7800 \frac{\text{кг}}{\text{м}^3}$
глицерин	$1260 \frac{\text{кг}}{\text{м}^3}$	медь	$8900 \frac{\text{кг}}{\text{м}^3}$
ртуть	$13\,600 \frac{\text{кг}}{\text{м}^3}$	свинец	$11\,350 \frac{\text{кг}}{\text{м}^3}$

Удельная			
теплоёмкость воды	$4200 \frac{\text{Дж}}{\text{кг} \cdot ^\circ\text{C}}$	теплота парообразования воды	$2,3 \cdot 10^6 \frac{\text{Дж}}{\text{кг}}$
теплоёмкость спирта	$2400 \frac{\text{Дж}}{\text{кг} \cdot ^\circ\text{C}}$	теплота парообразования спирта	$9,0 \cdot 10^5 \frac{\text{Дж}}{\text{кг}}$
теплоёмкость льда	$2100 \frac{\text{Дж}}{\text{кг} \cdot ^\circ\text{C}}$	теплота плавления свинца	$2,5 \cdot 10^4 \frac{\text{Дж}}{\text{кг}}$
теплоёмкость алюминия	$920 \frac{\text{Дж}}{\text{кг} \cdot ^\circ\text{C}}$	теплота плавления стали	$7,8 \cdot 10^4 \frac{\text{Дж}}{\text{кг}}$
теплоёмкость стали	$500 \frac{\text{Дж}}{\text{кг} \cdot ^\circ\text{C}}$	теплота плавления олова	$5,9 \cdot 10^4 \frac{\text{Дж}}{\text{кг}}$
теплоёмкость цинка	$400 \frac{\text{Дж}}{\text{кг} \cdot ^\circ\text{C}}$	теплота плавления льда	$3,3 \cdot 10^5 \frac{\text{Дж}}{\text{кг}}$
теплоёмкость меди	$400 \frac{\text{Дж}}{\text{кг} \cdot ^\circ\text{C}}$	теплота сгорания спирта	$2,9 \cdot 10^7 \frac{\text{Дж}}{\text{кг}}$
теплоёмкость олова	$230 \frac{\text{Дж}}{\text{кг} \cdot ^\circ\text{C}}$	теплота сгорания керосина	$4,6 \cdot 10^7 \frac{\text{Дж}}{\text{кг}}$
теплоёмкость свинца	$130 \frac{\text{Дж}}{\text{кг} \cdot ^\circ\text{C}}$	теплота сгорания бензина	$4,6 \cdot 10^7 \frac{\text{Дж}}{\text{кг}}$
теплоёмкость бронзы	$420 \frac{\text{Дж}}{\text{кг} \cdot ^\circ\text{C}}$		

Температура плавления		Температура кипения	
свинца	327 °С	воды	100 °С
олова	232 °С	спирта	78 °С
льда	0 °С		

Удельное электрическое сопротивление, $\frac{\text{Ом} \cdot \text{мм}^2}{\text{м}}$ (при 20 °С)			
серебро	0,016	никелин	0,4
медь	0,017	нихром (сплав)	1,1
алюминий	0,028	фехраль	1,2
железо	0,10		

**Нормальные условия:** давление  $10^5$  Па, температура 0 °С

**Часть 1**

*Ответом к заданиям 1, 6, 9, 15, 19 является последовательность цифр. Последовательность цифр записывайте без пробелов, запятых и других дополнительных символов. Ответом к заданиям 2–5, 8, 11–14, 17, 18, 20 и 21 является одна цифра, которая соответствует номеру правильного ответа. Ответом к заданиям 7, 10 и 16 является число. Единицы измерения в ответе указывать не надо. Запишите ответ в поле ответа в тексте работы, а затем перенесите в БЛАНК ОТВЕТОВ № 1 справа от номера соответствующего задания, начиная с первой клеточки. Каждый символ пишете в отдельной клеточке в соответствии с приведёнными в бланке образцами.*

**1**

Для каждого физического понятия из первого столбца подберите соответствующий пример из второго столбца.

**ФИЗИЧЕСКИЕ ПОНЯТИЯ**

**ПРИМЕРЫ**

- |   |             |
|---|-------------|
| А) физическая величина                      | 1) ньютон   |
| Б) единица физической величины              | 2) инерция  |
| В) прибор для измерения физической величины | 3) масса    |
|   | 4) кристалл |
|   | 5) весы     |

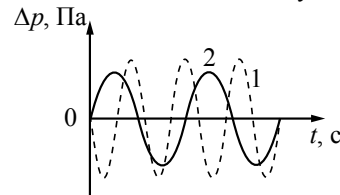
Запишите в таблицу выбранные цифры под соответствующими буквами.

Ответ:

А	Б	В

**2**

На рисунке представлены графики зависимости изменения давления воздуха  $\Delta p$  от времени  $t$  для звуковых волн, издаваемых двумя камертонами. Сравните амплитуду изменения давления и высоту тона волн.



- 1) Амплитуда изменения давления одинакова; высота тона первого звука больше, чем второго.
- 2) Высота тона одинакова; амплитуда изменения давления в первой волне меньше, чем во второй.
- 3) Амплитуда изменения давления и высота тона одинаковы.
- 4) Амплитуда изменения давления и высота тона различны.

Ответ:

**3**

Какое(-ие) из утверждений верно(-ы)?

Сила всемирного тяготения между Землёй и Луной  
 А. зависит от масс Земли и Луны.  
 Б. является причиной вращения Луны вокруг Земли.

- 1) только А
- 2) только Б
- 3) ни А, ни Б
- 4) и А, и Б

Ответ:

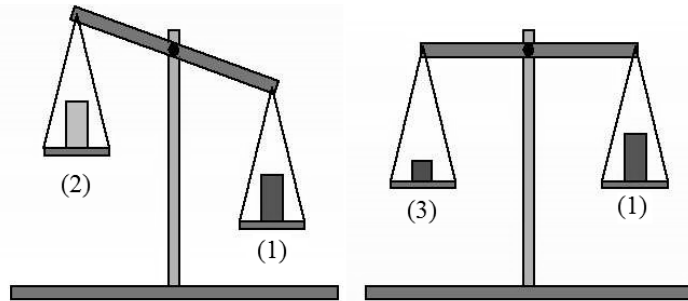
**4**

Тело массой  $m$ , брошенное с поверхности земли вертикально вверх с начальной скоростью  $v_0$ , поднялось на максимальную высоту  $h_0$ . Сопротивление воздуха пренебрежимо мало. Полная механическая энергия тела на некоторой промежуточной высоте  $h$  равна

- 1)  $mgh$
- 2)  $mgh_0$
- 3)  $mgh + \frac{mv_0^2}{2}$
- 4)  $mgh_0 + \frac{mv_0^2}{2}$

Ответ:

5 Цилиндр 1 поочерёдно взвешивают с цилиндром 2 такого же объёма, а затем с цилиндром 3, имеющим меньший объём (см. рисунок).

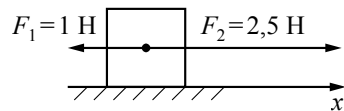


Максимальную среднюю плотность имеет(-ют) цилиндр(-ы)

- 1) 1
- 2) 2
- 3) 3
- 4) 1 и 3

Ответ:

6 На покоящееся тело, находящееся на гладкой горизонтальной плоскости, в момент времени  $t = 0$  начинают действовать две горизонтальные силы (см. рисунок). Определите, как после этого изменяются со временем модуль скорости тела и модуль ускорения тела.



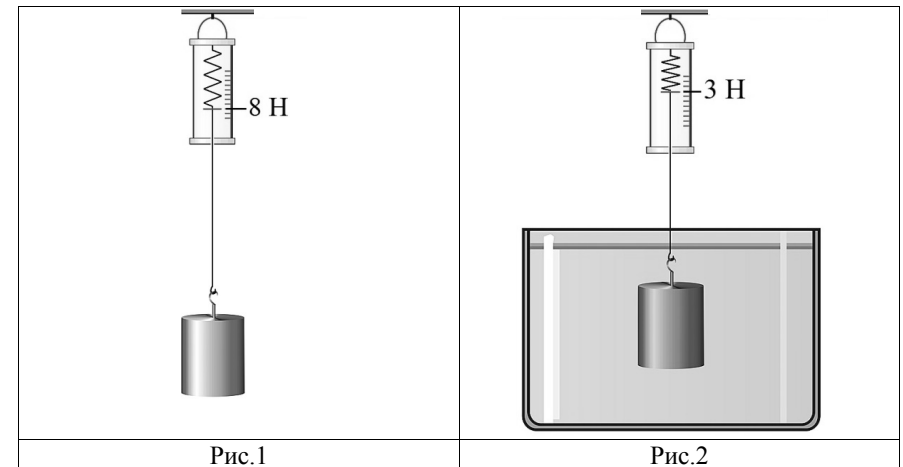
Для каждой величины определите соответствующий характер изменения:

- 1) увеличивается
- 2) уменьшается
- 3) не изменяется

Запишите в таблицу выбранные цифры для каждой физической величины. Цифры в ответе могут повторяться.

Модуль скорости	Модуль ускорения

7 К динамометру прикрепили цилиндр, как показано на рисунке 1. Затем цилиндр полностью погрузили в воду (рисунок 2).



Определите объём цилиндра.

Ответ: \_\_\_\_\_ см<sup>3</sup>.

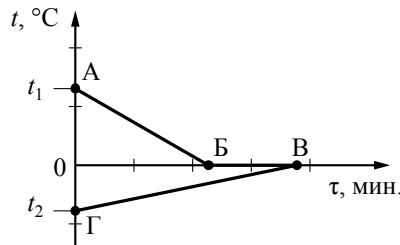
8 Одно из положений молекулярно-кинетической теории строения вещества заключается в том, что «частицы вещества (молекулы, атомы, ионы) находятся в непрерывном хаотическом движении». Что означают слова «непрерывное движение»?

- 1) Частицы всё время движутся в определённом направлении.
- 2) Движение частиц вещества не подчиняется никаким законам.
- 3) Частицы все вместе движутся то в одном, то в другом направлении.
- 4) Движение молекул никогда не прекращается.

Ответ:

9

В калориметр с водой добавили лёд. На рисунке представлены графики зависимости температуры от времени для воды и льда в калориметре. Теплообмен с окружающей средой пренебрежимо мал.



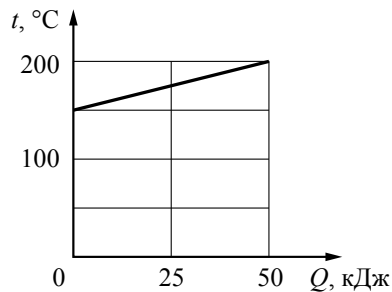
Используя данные графика, выберите из предложенного перечня **два** верных утверждения. Укажите их номера.

- 1) Начальная температура воды равна  $t_1$ .
- 2) Участок БВ соответствует процессу кристаллизации воды в калориметре.
- 3) Точка Б соответствует времени, когда в системе вода-лёд установилось состояние теплового равновесия.
- 4) К моменту установления теплового равновесия весь лёд в калориметре растаял.
- 5) Процесс, соответствующий участку АБ, идёт с поглощением энергии.

Ответ:

10

На рисунке представлен график зависимости температуры  $t$  твёрдого тела от полученного им количества теплоты  $Q$ . Масса тела 2 кг. Чему равна удельная теплоёмкость вещества этого тела?



Ответ: \_\_\_\_\_  $\frac{\text{Дж}}{\text{кг} \cdot ^\circ\text{C}}$ .

11

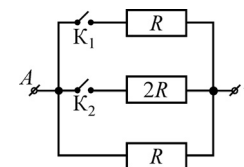
Металлическая пластина, имевшая положительный заряд, по модулю равный  $10 e$ , при освещении потеряла шесть электронов. Каким стал заряд пластины?

- 1)  $+4 e$
- 2)  $-4 e$
- 3)  $+16 e$
- 4)  $-16 e$

Ответ:

12

На рисунке изображена схема электрической цепи, состоящей из трёх резисторов и двух ключей  $K_1$  и  $K_2$ . К точкам  $A$  и  $B$  приложено постоянное напряжение. Максимальное количество теплоты, выделяемое в цепи за 1 с, может быть получено,

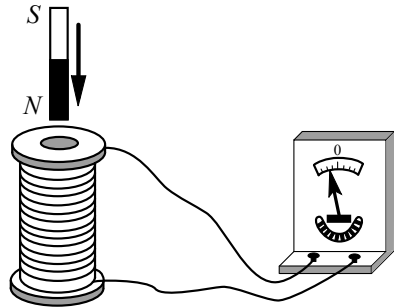


- 1) если замкнут только ключ  $K_1$
- 2) если замкнут только ключ  $K_2$
- 3) если замкнуты оба ключа
- 4) если оба ключа разомкнуты

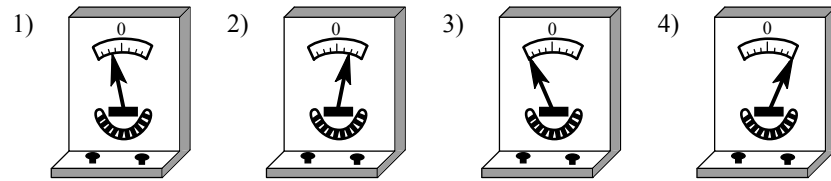
Ответ:

13

Постоянный магнит северным полюсом вносят в катушку, замкнутую на гальванометр (см. рисунок).



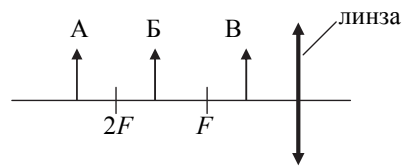
Если вносить магнит в катушку южным полюсом с той же скоростью, то показания гальванометра будут примерно соответствовать рисунку



Ответ:

14

На рисунке изображены три предмета: А, Б и В. Изображение какого(-их) предмета(-ов) в тонкой собирающей линзе, фокусное расстояние которой  $F$ , будет уменьшенным, перевёрнутым и действительным?



- 1) только А
- 2) только Б
- 3) только В
- 4) всех трёх предметов

Ответ:

15

Человек переводит взгляд со страницы книги на облака за окном. Как при этом меняются фокусное расстояние и оптическая сила хрусталика глаза человека?

Установите соответствие между физическими величинами и их возможными изменениями.

Для каждой величины определите соответствующий характер изменения:

- 1) увеличивается
- 2) уменьшается
- 3) не изменяется

Запишите в таблицу выбранные цифры для каждой физической величины. Цифры в ответе могут повторяться.

Фокусное расстояние	Оптическая сила

16

Электродвигатель работает при напряжении 220 В и силе тока 40 А. Чему равна полезная мощность двигателя, если известно, что его КПД составляет 75 %?

Ответ: \_\_\_\_\_ кВт.

17


Произошла следующая ядерная реакция:  ${}^{14}_7\text{N} + {}^4_2\text{He} \rightarrow X + {}^{17}_8\text{O}$ . Какая частица X выделилась в результате реакции?

- 1)  $\alpha$ -частица
- 2)  $\beta$ -частица
- 3) нейтрон
- 4) протон

Ответ:

18

Запишите результат измерения атмосферного давления с помощью барометра-анероида (см. рисунок), учитывая, что погрешность измерения равна цене деления.

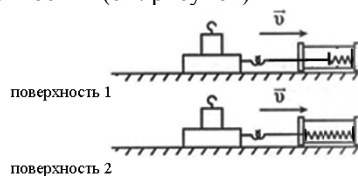


- 1)  $(750 \pm 5)$  мм рт. ст.
- 2)  $(755 \pm 1)$  мм рт. ст.
- 3)  $(107 \pm 1)$  Па
- 4)  $(100,7 \pm 0,1)$  Па

Ответ:

19

Учитель на уроке последовательно провёл опыты по измерению силы трения скольжения при равномерном движении бруска с грузом по двум разным горизонтальным поверхностям (см. рисунок)



Из предложенного перечня выберите **два** утверждения, соответствующие проведённым опытам. Укажите их номера.

- 1) Сила трения зависит от массы бруска с грузом.
- 2) Сила трения зависит от скорости перемещения бруска.
- 3) Сила трения зависит от угла наклона плоскости перемещения.
- 4) Сила трения зависит от поверхности, по которой движется брусок.
- 5) Трение скольжения для второй поверхности больше.

Ответ:

**Прочитайте текст и выполните задания 20–22.**

**Миражи**

Мираж является оптическим явлением в атмосфере, которое делает видимыми предметы, которые в действительности находятся вдали от места наблюдения, отображает их в искажённом виде или создаёт мнимое изображение.

Миражи бывают нескольких видов: нижние, верхние, боковые миражи и другие. Образование миражей связано с аномальным изменением плотности в нижних слоях атмосферы (что, в свою очередь, связано с быстрыми изменениями температуры).

Нижние миражи возникают преимущественно в тех случаях, когда слои воздуха у поверхности Земли (например, в пустыне) очень сильно разогреты и их плотность становится аномально низкой. Лучи света, которые исходят от предметов, начинают преломляться и сильно искривляться. Они описывают дугу у поверхности и подходят к глазу снизу. В таком случае можно увидеть предметы как будто зеркально отражёнными в воде, а на самом деле это перевёрнутые изображения отдалённых объектов (рис.1). А мнимое изображение неба создаёт при этом иллюзию воды на поверхности.

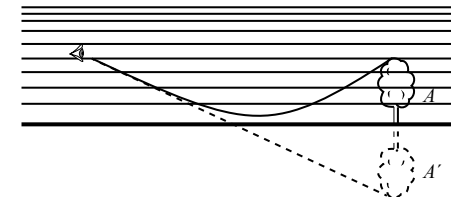


Рис. 1 Схема появления нижнего миража

A – предмет, A' – видимое изображение предмета

Верхние миражи возникают над сильно охлажденной поверхностью, когда над слоем холодного воздуха у поверхности образуется более тёплый верхний слой (рис. 2). Верхние миражи являются наиболее распространёнными в полярных регионах, особенно на больших ровных льдинах со стабильной низкой температурой. Изображения предметов, наблюдаемые прямо в воздухе, могут быть и прямыми, и перевёрнутыми.

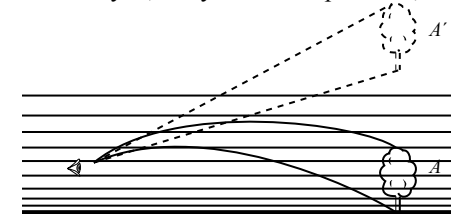


Рис.2 Схема появления верхнего миража

A – предмет, A' – видимое изображение предмета



20

Выберите верные утверждения, соответствующие содержанию текста.  
 А. В Северном Ледовитом океане наблюдать верхние миражи более вероятно по сравнению с нижними.  
 Б. Наблюдать миражи можно при резких изменениях температуры воздуха.

- 1) Верно только А.
- 2) Верно только Б.
- 3) Оба утверждения верны.
- 4) Оба утверждения **неверны**.

Ответ:

21

По мере приближения к поверхности Земли плотность атмосферы растёт (рис. 3).

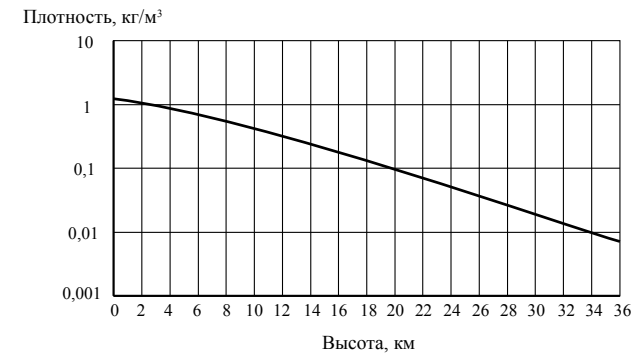


Рис.3 Изменение плотности воздуха с высотой относительно уровня моря

Какое изменение графика зависимости плотности воздуха от высоты соответствует условию возникновения нижнего миража? (изменение показано сплошной линией)

- 1)
- 2)
- 3)
- 4)

Ответ:



**Не забудьте перенести все ответы в бланк ответов № 1 в соответствии с инструкцией по выполнению работы. Проверьте, что каждый ответ записан в строке с номером соответствующего задания.**

**При выполнении задания 22 с развёрнутым ответом используйте БЛАНК ОТВЕТОВ № 2. Запишите сначала номер задания, а затем ответ на него. Полный ответ должен включать не только ответ на вопрос, но и его развёрнутое, логически связанное обоснование. Ответ записывайте чётко и разборчиво.**

- 22** Какие миражи (верхние или нижние) ещё называют озерными? Ответ поясните.

### Часть 2

**Для ответов на задания 23–26 используйте БЛАНК ОТВЕТОВ № 2. Запишите сначала номер задания (23, 24 и т.д.), а затем ответ к нему. Ответы записывайте чётко и разборчиво.**

- 23** Соберите экспериментальную установку для определения работы электрического тока, совершаемой в резисторе, используя источник тока, вольтметр, амперметр, ключ, реостат, соединительные провода и резистор, обозначенный  $R_2$ . При помощи реостата установите в цепи силу тока 0,5 А. Определите работу электрического тока в резисторе в течение 5 мин. В бланке ответов:
- 1) нарисуйте электрическую схему эксперимента;
  - 2) запишите формулу для расчёта работы электрического тока;
  - 3) укажите результаты измерения напряжения и силы тока;
  - 4) запишите численное значение работы электрического тока.

**Задание 24 представляет собой вопрос, на который необходимо дать письменный ответ. Полный ответ должен содержать не только ответ на вопрос, но и его развёрнутое, логически связанное обоснование.**

- 24** В каком случае колебания стрелки компаса затухают быстрее: в случае, когда корпус компаса изготовлен из меди, или из пластмассы? Ответ поясните.

**Для заданий 25, 26 необходимо записать полное решение, включающее запись краткого условия задачи (Дано), запись формул, применение которых необходимо и достаточно для решения задачи, а также математические преобразования и расчёты, приводящие к числовому ответу.**

- 25** Тело массой 100 кг поднимают с помощью троса на высоту 25 м в первом случае равномерно, а во втором – с ускорением  $2 \text{ м/с}^2$ . Найдите отношение работы силы упругости троса при равноускоренном движении груза к работе силы упругости при равномерном подъёме.
- 26** Кусок свинца, имеющего температуру  $27^\circ\text{C}$ , начинают нагревать на плитке постоянной мощности. Через 10 минут от начала нагревания свинец нагрелся до температуры плавления. Сколько ещё времени потребуется для плавления свинца?



**Проверьте, что каждый ответ записан рядом с номером соответствующего задания.**

## Система оценивания экзаменационной работы по физике

## Часть 1

За верное выполнение каждого из заданий 2–5, 7, 8, 10–14, 16–18 и 20, 21 выставляется по 1 баллу.

Каждое из заданий 1, 6, 9, 15, 19 оценивается 2 баллами, если верно указаны все элементы ответа; 1 баллом, если правильно указан хотя бы один элемент ответа, и 0 баллов, если ответ не содержит элементов правильного ответа.

Номер задания	Правильный ответ	Номер задания	Правильный ответ	Номер задания	Правильный ответ
1	315	8	4	15	12
2	4	9	12 или 21	16	6,6
3	4	10	500	17	4
4	2	11	3	18	2
5	3	12	3	19	45 или 54
6	13	13	2	20	3
7	500	14	1	21	2

## Критерии оценивания заданий с развёрнутым ответом

22

Какие миражи (верхние или нижние) ещё называют озерными? Ответ поясните.

## Образец возможного ответа

1. Нижние.

2. Пояснение:

– При нижних миражах изображение неба похоже на озеро.

ИЛИ

– При нижних миражах изображение предметов выглядит как отражение от поверхности озера.

Содержание критерия	Баллы
Представлен правильный ответ на вопрос, и приведено достаточное обоснование, не содержащее ошибок	2
Представлен правильный ответ на поставленный вопрос, но рассуждения, приводящие к ответу, представлены не в полном объёме, или в них содержится логический недочёт. ИЛИ Представлены корректные рассуждения, приводящие к правильному ответу, но ответ явно не сформулирован	1
Представлены общие рассуждения, не относящиеся к ответу на поставленный вопрос. ИЛИ Ответ на вопрос неверен независимо от того, что рассуждения правильны или неверны, или отсутствуют	0
<i>Максимальный балл</i>	2

23

Соберите экспериментальную установку для определения работы электрического тока, совершаемой в резисторе, используя источник тока, вольтметр, амперметр, ключ, реостат, соединительные провода и резистор, обозначенный  $R_2$ . При помощи реостата установите в цепи силу тока 0,5 А. Определите работу электрического тока в резисторе в течение 5 мин.

В бланке ответов:

- 1) нарисуйте электрическую схему эксперимента;
- 2) запишите формулу для расчёта работы электрического тока;
- 3) укажите результаты измерения напряжения и силы тока;
- 4) запишите численное значение работы электрического тока.

**Характеристика оборудования**

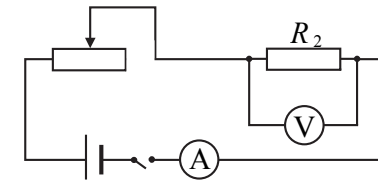
При выполнении задания используется комплект оборудования № 5 в следующем составе:

Наборы лабораторные	Комплект «ГИА-лаборатория»
<b>Комплект № 5</b>	
<ul style="list-style-type: none"> <li>• источник питания постоянного тока 4,5 В</li> <li>• вольтметр 0–6 В, <math>C = 0,2</math> В</li> <li>• амперметр 0–2 А, <math>C = 0,1</math> А</li> <li>• переменный резистор (реостат), сопротивлением 10 Ом</li> <li>• резистор, <math>R_1 = 12</math> Ом, обозначаемый <math>R_1</math></li> <li>• резистор, <math>R_2 = 6</math> Ом, обозначаемый <math>R_2</math></li> <li>• соединительные провода, 8 шт.</li> <li>• ключ</li> <li>• рабочее поле</li> </ul>	<ul style="list-style-type: none"> <li>• источник питания постоянного тока (4,5 - 5,5) В</li> <li>• вольтметр двухпредельный: предел измерения 3 В, <math>C = 0,1</math> В; предел измерения 6 В, <math>C = 0,2</math> В</li> <li>• амперметр двухпредельный: предел измерения 3 А, <math>C = 0,1</math> А; предел измерения 0,6 А, <math>C = 0,02</math> А</li> <li>• переменный резистор (реостат), сопротивлением 10 Ом</li> <li>• резистор <math>R_5 = (8,2 \pm 0,8)</math> Ом, обозначить <math>R_1</math></li> <li>• резистор, <math>R_3 = (4,7 \pm 0,5)</math> Ом, обозначить <math>R_2</math></li> <li>• соединительные провода, 8 шт.</li> <li>• ключ</li> <li>• рабочее поле</li> </ul>

**Внимание!** При замене какого-либо элемента оборудования на аналогичное с другими характеристиками необходимо внести соответствующие изменения в образец выполнения задания.

**Образец возможного выполнения**

1. Схема экспериментальной установки:



2.  $A = U \cdot I \cdot t$ .
3.  $I = 0,5$  А;  $U = 3,0$  В;  $t = 5$  мин = 300 с.
4.  $A = 450$  Дж.

**Указание экспертам**

Численное значение прямого измерения напряжения должно попасть в интервал  $U = (3,0 \pm 0,5)$  В.

Для комплекта «ГИА-лаборатория» интервал равен  $U = (2,4 \pm 0,4)$  В.

Содержание критерия	Баллы
Полностью правильное выполнение задания, включающее в себя: 1) электрическую схему эксперимента; 2) формулу для расчёта искомой величины (в данном случае для работы электрического тока через время, напряжение и силу тока); 3) правильно записанные результаты прямых измерений (в данном случае измерения электрического напряжения и силы тока); 4) полученное правильное численное значение искомой величины с указанием единиц	4
Приведены все элементы правильного ответа 1–4, но допущена ошибка при вычислении значения искомой величины. ИЛИ Допущена ошибка при обозначении единиц измерения одной из величин. ИЛИ Допущена ошибка в схематичном рисунке экспериментальной установки, или рисунок отсутствует или отсутствует формула в общем виде для расчёта искомой величины, или допущена ошибка в формуле	3
Сделан рисунок экспериментальной установки, правильно приведены результаты прямых измерений величин, но не записана формула для расчёта искомой величины, и не получен ответ. ИЛИ Правильно приведены результаты прямых измерений величин, записана формула для расчёта искомой величины, но не получен ответ, и не приведён рисунок экспериментальной установки.	2

<b>ИЛИ</b>	
Правильно приведены результаты прямых измерений, приведён правильный ответ, но отсутствует рисунок экспериментальной установки и формула для расчёта искомой величины	
Записаны только правильные результаты прямых измерений.	1
<b>ИЛИ</b>	
Приведено правильное значение только одного из прямых измерений, и представлена правильно записанная формула для расчёта искомой величины.	
<b>ИЛИ</b>	
Приведён правильный результат только одного из прямых измерений, и сделан рисунок экспериментальной установки	
Все случаи выполнения, которые не соответствуют вышеуказанным критериям выставления 1, 2, 3 или 4 баллов. Разрозненные записи. Отсутствие попыток выполнения задания	0
<i>Максимальный балл</i>	4

24

В каком случае колебания стрелки компаса затухают быстрее: в случае, когда корпус компаса изготовлен из меди, или из пластмассы? Ответ поясните.

**Образец возможного ответа**

- В случае медного корпуса затухание будет проходить быстрее.
- При колебаниях магнитной стрелки в проводящем корпусе (в данном случае, медном) будет возникать индукционный ток. Магнитное поле индукционного тока будет взаимодействовать с магнитной стрелкой, замедляя её движение.

Содержание критерия	Баллы
Представлен правильный ответ на вопрос, и приведено достаточное обоснование, не содержащее ошибок	2
Представлен правильный ответ на поставленный вопрос, но его обоснование не является достаточным, хотя содержит указание на физические явления (законы), причастные к обсуждаемому вопросу.	1
<b>ИЛИ</b>	
Представлены корректные рассуждения, приводящие к правильному ответу, но ответ явно не сформулирован.	
Представлены общие рассуждения, не относящиеся к ответу на поставленный вопрос.	0
<b>ИЛИ</b>	
Ответ на вопрос неверен независимо от того, что рассуждения правильны или неверны, или отсутствуют	
<i>Максимальный балл</i>	2

25

Тело массой 100 кг поднимают с помощью троса на высоту 25 м в первом случае равномерно, а во втором – с ускорением 2 м/с<sup>2</sup>. Найдите отношение работы силы упругости троса при равноускоренном движении груза к работе силы упругости при равномерном подъёме.

Возможный вариант решения	
Дано: $m = 100 \text{ кг}$ $h = 25 \text{ м}$ $a = 2 \text{ м/с}^2$	$F_1 - mg = 0$ $A_1 = F_1 \cdot h = mgh$  $F_2 - mg = ma$ $A_2 = F_2 \cdot h = (mg + ma) \cdot h$ $\frac{A_2}{A_1} = \frac{g + a}{g} = 1,2$
$\frac{A_2}{A_1} - ?$	<i>Ответ:</i> 1,2

Содержание критерия	Баллы
Приведено полное правильное решение, включающее следующие элементы: 1) верно записано краткое условие задачи; 2) записаны уравнения и формулы, <u>применение которых необходимо и достаточно</u> для решения задачи выбранным способом ( <i>в данном решении: второй закон Ньютона, формула для работы силы</i> ); 3) выполнены необходимые математические преобразования и расчёты, приводящие к правильному числовому ответу, и представлен ответ с указанием единиц. При этом допускается решение "по частям" (с промежуточными вычислениями).	3
Правильно записаны необходимые формулы, проведены вычисления, и получен ответ (верный или неверный), но допущена ошибка в записи краткого условия или переводе единиц в СИ.	2
<b>ИЛИ</b>	
Представлено правильное решение только в общем виде, без каких-либо числовых расчётов.	
<b>ИЛИ</b>	
Записаны уравнения и формулы, <u>применение которых необходимо и достаточно</u> для решения задачи выбранным способом, но в математических преобразованиях или вычислениях допущена ошибка	
Записаны и использованы не все исходные формулы, необходимые для решения задачи.	1
<b>ИЛИ</b>	
Записаны все исходные формулы, но в <b>одной</b> из них допущена ошибка	

Все случаи решения, которые не соответствуют вышеуказанным критериям выставления оценок в 1, 2, 3 балла	0
<i>Максимальный балл</i>	3

26

Кусок свинца, имеющего температуру 27 °С, начинают нагревать на плитке постоянной мощности. Через 10 минут от начала нагревания свинец нагрелся до температуры плавления. Сколько ещё времени потребуется для плавления свинца?

Возможный вариант решения	
<i>Дано:</i> $t_1 = 27\text{ }^\circ\text{C}$ $t_2 = 327\text{ }^\circ\text{C}$ $\Delta t = 300\text{ }^\circ\text{C}$  $c = 130\text{ Дж}/(\text{кг}\cdot^\circ\text{C})$ $\lambda = 25000\text{ Дж}/\text{кг}$ $\tau_1 = 10\text{ мин} = 600\text{ с}$	$A_1 = Q_1$ $A_2 = Q_2$ $Q_1 = cm\Delta t$ $Q_2 = m\lambda$ $A_1 = P\cdot\tau_1$ $A_2 = P\cdot\tau_2$  $\tau_2 = \frac{\lambda\tau_1}{c\Delta t} \approx 385\text{ с}$
$\tau_2 = ?$	<i>Ответ:</i> $\approx 385\text{ с}$

Содержание критерия	Баллы
Приведено полное правильное решение, включающее следующие элементы: 1) верно записано краткое условие задачи; 2) записаны уравнения и формулы, <u>применение которых необходимо и достаточно</u> для решения задачи выбранным способом ( <i>в данном решении: закон сохранения энергии, формула расчёта количества теплоты, необходимого для плавления вещества, формула расчёта количества теплоты, необходимого для нагревания вещества, формула для работы тока через мощность тока</i> ); 3) выполнены необходимые математические преобразования и расчёты, приводящие к правильному числовому ответу, и представлен ответ с указанием единиц. При этом допускается решение "по частям" (с промежуточными вычислениями).	3

Правильно записаны необходимые формулы, проведены вычисления, и получен ответ (верный или неверный), но допущена ошибка в записи краткого условия или переводе единиц в СИ. <b>ИЛИ</b> Представлено правильное решение только в общем виде, без каких-либо числовых расчётов. <b>ИЛИ</b> Записаны уравнения и формулы, <u>применение которых необходимо и достаточно</u> для решения задачи выбранным способом, но в математических преобразованиях или вычислениях допущена ошибка	2
Записаны и использованы не все исходные формулы, необходимые для решения задачи. <b>ИЛИ</b> Записаны все исходные формулы, но в <b>одной</b> из них допущена ошибка	1
Все случаи решения, которые не соответствуют вышеуказанным критериям выставления оценок в 1, 2, 3 балла	0
<i>Максимальный балл</i>	3

В соответствии с Порядком проведения государственной итоговой аттестации по образовательным программам основного общего образования (приказ Минобрнауки России от 25.12.2013 № 1394 зарегистрирован Минюстом России 03.02.2014 № 31206)

«48. Экзаменационные работы проверяются двумя экспертами. По результатам проверки эксперты независимо друг от друга выставляют баллы за каждый ответ на задания экзаменационной работы... В случае существенного расхождения в баллах, выставленных двумя экспертами, назначается третья проверка. Существенное расхождение в баллах определено в критериях оценивания по соответствующему учебному предмету.

Третий эксперт назначается председателем предметной комиссии из числа экспертов, ранее не проверявших экзаменационную работу.

Третьему эксперту предоставляется информация о баллах, выставленных экспертами, ранее проверявшими экзаменационную работу обучающегося. Баллы, выставленные третьим экспертом, являются окончательными».

Существенным считается расхождение в 2 или более балла за выполнение любого из заданий 22–26. В этом случае третий эксперт проверяет ответы только на те задания, которые вызвали столь существенное расхождение.